





## แบบฝึกคณิตศาสตร์ (การนับจำนวนและบวกเลข)

**คำชี้แจง** นับจำนวนรูปภาพและเขียนตัวเลขที่ด้านล่าง จากนั้นหาผลบวกแล้วใส่คำตอบลงในช่องว่าง □

ตัวอย่าง


 + 
 
 = 
 6


3
3


 + 
 
 =

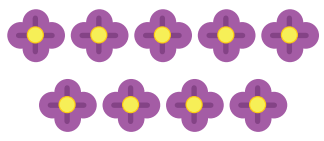

          
          


 + 
 
 =


 + 
 
 =


 + 
 
 =

P F 2 3 3 1 2 0 1 2 0 1 1 K 2 0 0 0

ชื่อ-นามสกุล <input style="width: 90%;" type="text"/>	สังเกตพฤติกรรม <input type="radio"/> ทำเองได้โดยไม่ต้องแนะนำ <input type="radio"/> แนะนำเป็นบางครั้ง <input type="radio"/> ต้องแนะนำ <input type="radio"/> ขาดสมาธิในการทำ	ให้คะแนน <div style="border: 1px solid gray; height: 40px; width: 100%;"></div>
ระดับชั้น <input style="width: 80%;" type="text"/>	วันที่ <input style="width: 80%;" type="text"/>	

## แบบฝึกคณิตศาสตร์ (การนับจำนวนและบวกเลข)

**คำชี้แจง** นับจำนวนรูปภาพและเขียนตัวเลขที่ด้านล่าง จากนั้นหาผลบวกแล้วใส่คำตอบลงในช่องว่าง □



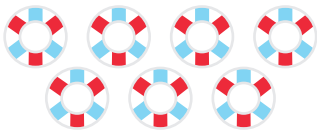
+



=

\_\_\_\_\_

\_\_\_\_\_



+



=

\_\_\_\_\_

\_\_\_\_\_



+



=

\_\_\_\_\_

\_\_\_\_\_



+



=

\_\_\_\_\_

\_\_\_\_\_



+



=

\_\_\_\_\_

\_\_\_\_\_

ชื่อ-นามสกุล \_\_\_\_\_

ระดับชั้น \_\_\_\_\_

วันที่ \_\_\_\_\_

สังเกตพฤติกรรม

- ทำเองได้โดยไม่ต้องแนะนำ     แนะนำเป็นบางครั้ง
- ต้องแนะนำ     ขาดสมาธิในการทำ


ให้คะแนน




P F 23312012011K20000

## แบบฝึกคณิตศาสตร์ (การนับจำนวนและบวกเลข)


**คำชี้แจง** นับจำนวนรูปภาพและเขียนตัวเลขที่ด้านล่าง จากนั้นหาผลบวกแล้วใส่คำตอบลงในช่องว่าง □



$$\begin{array}{c} \text{8 shorts} \\ \hline \end{array} + \begin{array}{c} \text{8 flowers} \\ \hline \end{array} = \square$$



$$\begin{array}{c} \text{3 candy canes} \\ \hline \end{array} + \begin{array}{c} \text{2 slices of bread} \\ \hline \end{array} = \square$$



$$\begin{array}{c} \text{6 apples} \\ \hline \end{array} + \begin{array}{c} \text{4 balloons} \\ \hline \end{array} = \square$$



$$\begin{array}{c} \text{2 clouds} \\ \hline \end{array} + \begin{array}{c} \text{1 fish} \\ \hline \end{array} = \square$$



$$\begin{array}{c} \text{6 houses} \\ \hline \end{array} + \begin{array}{c} \text{6 soccer balls} \\ \hline \end{array} = \square$$

ชื่อ-นามสกุล \_\_\_\_\_

ระดับชั้น \_\_\_\_\_ วันที่ \_\_\_\_\_

สังเกตพฤติกรรม

- ทำเองได้โดยไม่ต้องแนะนำ     แนะนำเป็นบางครั้ง  
 ต้องแนะนำ     ขาดสมาธิในการทำ

ให้คะแนน



## แบบฝึกคณิตศาสตร์ (การนับจำนวนและบวกเลข)

**คำชี้แจง** นับจำนวนรูปภาพและเขียนตัวเลขที่ด้านล่าง จากนั้นหาผลบวกแล้วใส่คำตอบลงในช่องว่าง □


 $+$ 

 $=$ 

\_\_\_\_\_


 $+$ 

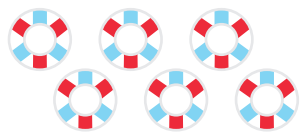

 $=$ 

\_\_\_\_\_


 $+$ 

 $=$ 

\_\_\_\_\_


 $+$ 

 $=$ 

\_\_\_\_\_


 $+$ 

 $=$ 

\_\_\_\_\_

P F 2 3 3 1 2 0 1 2 0 1 1 K 2 0 0 0

ชื่อ-นามสกุล _____ ระดับชั้น _____ วันที่ _____	สังเกตพฤติกรรม <input type="radio"/> ทำเองได้โดยไม่ต้องแนะนำ <input type="radio"/> แนะนำเป็นบางครั้ง <input type="radio"/> ต้องแนะนำ <input type="radio"/> ขาดสมาธิในการทำ	ให้คะแนน <div style="border: 1px solid gray; width: 100%; height: 40px;"></div>
----------------------------------------------------	----------------------------------------------------------------------------------------------------------------------------------------------------------------------------------	------------------------------------------------------------------------------------

## แบบฝึกคณิตศาสตร์ (การนับจำนวนและบวกเลข)

**คำชี้แจง** นับจำนวนรูปภาพและเขียนตัวเลขที่ด้านล่าง จากนั้นหาผลบวกแล้วใส่คำตอบลงในช่องว่าง □



+



=

\_\_\_\_\_

\_\_\_\_\_



+



=

\_\_\_\_\_

\_\_\_\_\_



+



=

\_\_\_\_\_

\_\_\_\_\_



+



=

\_\_\_\_\_

\_\_\_\_\_



+



=

\_\_\_\_\_

\_\_\_\_\_

ชื่อ-นามสกุล \_\_\_\_\_

ระดับชั้น \_\_\_\_\_

วันที่ \_\_\_\_\_

สังเกตพฤติกรรม



- ทำเองได้โดยไม่ต้องแนะนำ     แนะนำเป็นบางครั้ง  
 ต้องแนะนำ     ขาดสมาธิในการทำ

ให้คะแนน



## แบบฝึกคณิตศาสตร์ (การนับจำนวนและบวกเลข)

**คำชี้แจง** นับจำนวนรูปภาพและเขียนตัวเลขที่ด้านล่าง จากนั้นหาผลบวกแล้วใส่คำตอบลงในช่องว่าง □


 $+$ 

 $=$ 

\_\_\_\_\_


 $+$ 



 $=$ 

\_\_\_\_\_




 $+$ 

 $=$ 

\_\_\_\_\_


 $+$ 

 $=$ 

\_\_\_\_\_


 $+$ 

 $=$ 

\_\_\_\_\_

ชื่อ-นามสกุล \_\_\_\_\_

ระดับชั้น \_\_\_\_\_ วันที่ \_\_\_\_\_

สังเกตพฤติกรรม

- ทำเองได้โดยไม่ต้องแนะนำ     แนะนำเป็นบางครั้ง  
 ต้องแนะนำ     ขาดสมาธิในการทำ

ให้คะแนน

